



1. Vervollständige folgenden Satz!

Sind technische Systeme, die aus bestehen.

Unter Einsatz von führen sie technologische Vorgänge aus und den Menschen die Arbeit.

2. Nenne 4 Energieformen! _____

4. Ergänze die 4 Arten von Maschinen!


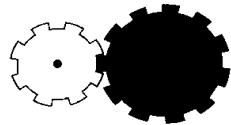

	Transportmaschinen		Informationsmaschinen
Turbinen		Kaffeemaschine	
Motoren		Kettensäge	

4. Vervollständige die Tabelle durch die unten stehenden Begriffe!

Trägerelemente		Antriebselemente		Übertragungselemente
	Bohrer			
			Lenkrad	

Steuerelemente, Rahmen, Wasserrad, Schalter, Wellen, Gehäuse, Räder, Pedal, Getriebe, Arbeitselemente; Karosserien, Nadel, Motor; Hebel, Kupplungen

5. Ergänze die Tabelle.

Getriebeart		2 Beispiele
		
		
		
Riemengetriebe		